

Het voorwerp op de vorige pagina dient om: A) Aardappelen te stampen B) Taarten te versieren
C) Onkruid te wieden D) Pasta te maken

Noteer hier de letter die voor het juiste antwoord staat:



Tijdens de Tweede Wereldoorlog sluiten de Duitsers miljoenen mensen op in concentratiekampen omdat ze van een ander volk zijn of een andere mening hebben. De naam van wie in zo'n kamp terecht komt, wordt vervangen door een nummer, dat op de gestreepte kleding van de gevangene wordt genaaid of geschreven.

9

Uit welk land komt gevangene nummer 75530?

Uit

10 De Tweede Wereldoorlog speelde zich niet alleen af in Europa. Ook in Azië werd flink gevochten. Zo waren de Verenigde Staten in oorlog met Japan, dat de kant van Duitsland had gekozen.

Wat is het symbool van Japan? In de zaal vind je er meerdere voorbeelden van.



Het symbool van Japan is een rode ...

- A) zon
- B) maan
- C) ster

Noteer hier de DERDE letter van het juiste antwoord:

Als je alle vragen goed hebt beantwoord, kun je met de letters een codewoord samenstellen. Het verwijst naar een Duitse verdedigingslinie uit de Tweede Wereldoorlog. Vul het in op de streepjes:

8 4 9 7 10 6b 1 2 5a 3 5b 6a



OORLOG - BEZETTING - BEVRIJDING

SPELPARCOURS 8-12 JAAR

Dit spelparcours over de Tweede Wereldoorlog bevat tien vragen. De oplossingen vind je in de nieuwe tentoonstelling 'Oorlog. Bezetting. Bevrijding', op de eerste verdieping van de Bordiauhal. Noteer telkens je antwoord op de streepjes onder elke opdracht. Met de letters op de rode streepjes kun je aan het einde van het parcours een woord vormen.



1 Net voor de Tweede Wereldoorlog uitbrak, was de Britse regering bang voor een Duitse gasaanval. Daarom werden er meer dan 40 miljoen gasmaskers uitgedeeld aan de bevolking. Dit gasmaskertje in rood en blauw was bestemd voor kinderen van anderhalf tot vier jaar oud. Het is genoemd naar een beroemde Amerikaanse tekenfilmfiguur. Zet de letters in de juiste volgorde om de naam van het personage te vinden.

Y O U I S M E M E C K



Het bordspel in de onderste vitrine verwijst naar die sluikehandel. Welke koopwaar is volgens het reglement 7 punten waard?

2 Tijdens de oorlog heerste in België een groot voedseltekort. Met de voedselbonnen in de bovenste vitrine kon je een kleine hoeveelheid levensmiddelen kopen (een rantsoen). Het ging om basisproducten zoals melk, meel, boter, enz. Maar er werd ook voedsel verkocht op de 'zwarte markt'. Dat gebeurde in het geheim, omdat het verboden was. De prijzen op de zwarte markt waren belachelijk hoog! Alleen wie heel rijk was, kon daar eten kopen.

3 Tijdens de oorlog zijn er in Europa geheime groepen en organisaties die zich op allerlei manieren verzetten tegen de Duitsers. Ook de kat Pluto pleegde verzet. Hoe?



- A. Pluto was koerier bij een **inlichtingennetwerk** dat de Duitsers bespioneerde (hij werd met geheime boodschappen op pad gestuurd).
- B. Hij **weigerde** voor de Duitsers te **werken**.

- C. Pluto werd door het **gewapend verzet** op een Duitse patrouille afgestuurd, maar zijn bommengordel is nooit ontploft.
- D. Hij leidde neergestorte Britse piloten naar een **ontsnappingsroute** zodat ze veilig naar huis konden terugkeren.
- E. Hij pleegde **symbolisch verzet** door op de Nationale Feestdag de Brabançonne te miauwen (zijn baasje had hem dat geleerd).
- F. Hij spoorde **Joden** op en hielp ze **onderduiken**.
- G. Pluto was actief bij de **sluikpers**. Hij bewaakte een illegale drukkerij door alleen te miauwen als er Duitsers in de buurt waren.


Noteer hier de letter die voor het juiste antwoord staat:

4

Op 27 mei 1942 besloten de Duitsers dat alle Belgische Joden een gele Davidster op hun kleding moesten naaien. Vanaf welke leeftijd* was het dragen van die ster verplicht? Noteer het cijfer en deel het door drie.

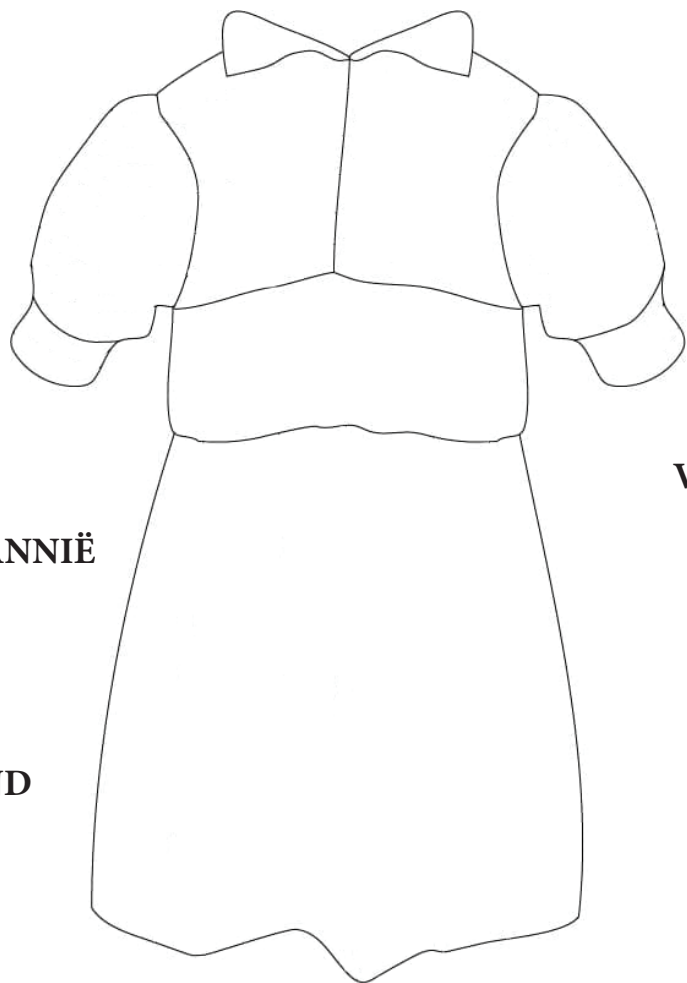
— : 3 = — — —

*De leeftijd = het aantal punten van de ster



Wanneer België in september 1944 wordt bevrijd, bevindt de vader van Francine Lepoivre zich nog in een Duits gevangenenkamp. Bij zijn terugkeer in 1945 naait haar moeder voor haar dit jurkje, dat ze draagt om haar vader op te wachten in het station. In dat jurkje zijn de vlaggen van vijf geallieerde landen (dat zijn landen die tegen de Duitsers waren) verwerkt.

Kijk goed naar het jurkje in de vitrine, teken de vlaggen erop en verbind ze met het juiste land. Let goed op, want in elke kolom staat de naam van een land waarvan de vlag niet op het jurkje voorkomt!



FRANKRIJK

BELGIË

GROOT-BRITANNIË

NIEUW-ZEELAND

AUSTRALIË

VERENIGDE STATEN

BELGISCH-CONGO

Noteer hier de vijfde letter van het land in de linkerkolom waarvan de vlag NIET op het jurkje voorkomt: —

Noteer hier de zevende letter van het land in de rechterkolom waarvan de vlag NIET op het jurkje voorkomt: —

5

6

Dit is de jas van Marthe Van Nuland. Na de bevrijding werkte ze in Antwerpen in een soort opvang voor buitenlandse soldaten. Veel van hen gaven haar een badge of insigne, een soort herkenningsteken dat ze op hun uniform droegen. Ze kreeg er meer dan honderd, die ze allemaal op haar jas naaide.

Op veel van Marthe's badges zijn dieren afgebeeld. Welk dier uit het lijstje komt NIET voor op haar jas?

- EENHOORN
- LEEUEW
- PANDA
- ADELAAR
- DRAAK
- OLIFANT
- HERT
- VOS
- RAT
- PAARD
- IJSBEER
- STIER
- BIZON




Noteer hieronder de tweede en de laatste letter van het dier dat NIET op Marthe's jas voorkomt: — —

7

In september 1944 is bijna heel België bevrijd. Maar een drietal maanden later doen de Duitsers een tegenaanval. Tijdens de Slag om de Ardennen proberen ze de stad Bastenaken (Bastogne), in de provincie Luxemburg, te veroveren.

Hieronder zie je vier fragmenten van legeruniformen. Soldaten dragen vaak camouflage om minder op te vallen bij hun vijanden. Welk van deze vier uniformen, die je in de zaal terugvindt, is het meest geschikt om middenin de winter een stad in de Ardennen te verdedigen?

Noteer hier je antwoord: uniform — is het meest geschikt.



A



B



C



D

8

Vlak na de oorlog komen de inwoners van Berlijn niet alleen eten, maar een hoop andere dingen tekort. Daarom knutselen ze huishoudspullen in elkaar van landmijnen, kogelhulzen, gasmaskers en wat ze nog meer op straat vinden.

Waarvoor zou het voorwerp dat hier is afgebeeld zijn gebruikt?

